

V 社会記述課題①

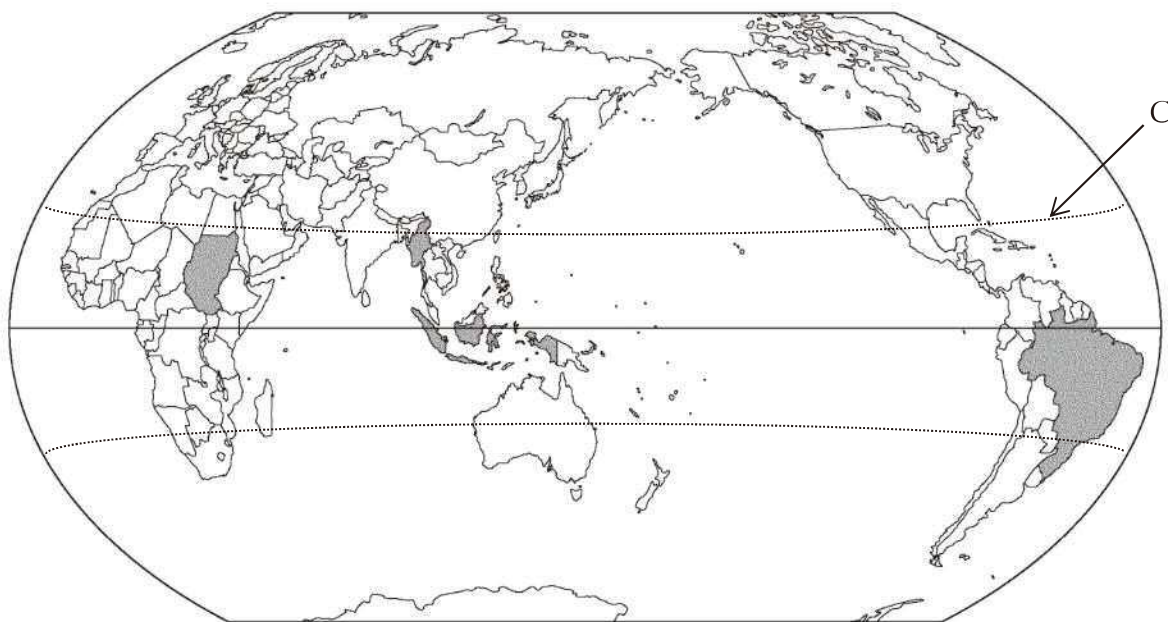
サンプル

〔問題〕 次の〔I〕～〔III〕の文章や資料を読み、あとの問いに答えなさい。

〔I〕

自然の回復力を超える樹木の伐採により森林が急激に減少しています。国連食糧農業機関（FAO）の統計によれば、全世界の森林面積は1990年には、約4077万 km^2 でしたが、2005年には約3952万 km^2 となりました。15年の間になんと約125万 km^2 もの森林が消滅したことになります。これは日本の面積（約 A 万 km^2 ）の、およそ（ B ）倍もの森林がなくなったということです。特に減少が激しい4か国（地図上、色が付いた国）は、上位から南アメリカの（あ）、アフリカのスーダン、東南アジアのインドネシアと（い）で、いずれも赤道付近に分布する（う）気候の森林が地球規模で減少しているのです。

減少した森林面積の多い上位4か国（1990～2005年）



〔設問〕

問1 文中の空欄（ A ）（ B ）に当てはまる数字を答えなさい。ただし、Aは整数、Bは小数第一位の概数（ともに四捨五入）で書くこと。

問2 文中の空欄（あ）（い）（う）に当てはまる語句と、それらに関する問いに答えなさい。

（あ）…アマゾン川流域に広がる森林のことを何といいますか。

（い）…この国の非暴力民主化運動の指導者で、1991年にノーベル平和賞を受賞、現在、連邦議会議員として活躍している人物は誰ですか。

（う）…この気候区で降る激しい雨のことを何といいますか。

問3 図中の線分Cは、北半球が夏至のときに、太陽が真上に来る位置を示すものです。その名称と緯度をそれぞれ書きなさい。

問4 このような図法の地図はどのような図に適していますか。その名称を書きなさい。

〔II〕

森林の減少によって、遺伝子資源*や木材資源がなくなるばかりでなく、①二酸化炭素の吸収量も減ってしまいます。また（う）気候の森林は、地球上でもっとも多様な生物たちが生活する場所です。森林の消滅によりそこに住む野生生物や鳥類、昆虫などの②生態系にも影響を及ぼすことが懸念されています。

*遺伝子資源…遺伝子工学で、作物などの改良品種をつくるときに利用できる形質をもつ生物。

〔設問〕

下線部①について、下の問1～3に答えなさい。

問1 二酸化炭素を放出するものとして化石燃料があります。化石燃料と呼ばれるものにはどのようなものがありますか。二つ答えなさい。

問2 産業革命以降、化石燃料の使用が増え、その結果、大気中の二酸化炭素の濃度が増加し、その影響で地球温暖化が進行していると言われていています。私達が地球温暖化を防ぐためにどのようなことができるのか、一つ取り上げ具体的に説明しなさい。

問3 化石燃料は「枯渇性資源」と呼ばれいづれなくなるエネルギー源です。それに対して自然の営みから半永久的に得られ、継続して利用できるエネルギーのことを何と呼びますか。また、そのエネルギーを三つ答えなさい。

〔設 問〕

下線部②について、下の問4、5に答えなさい。

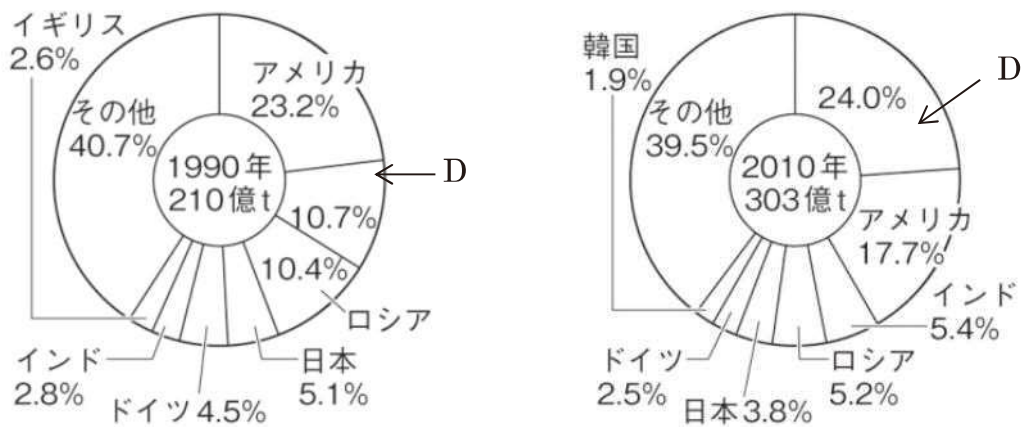
サンプル

問4 いき過ぎた森林伐採によって、地球全体の生態系は日増しに悪化し、生物種の絶滅が生じています。このままではどのようなことが起こる可能性があると思いますか。あなたの考えを70字以内で書きなさい。

問5 地球上の多様な生物をその生息環境とともに保全し、生物資源を持続可能であるように利用し、および遺伝資源の利用から生ずる利益を公正かつ衡平に配分することを目的とする条約を何とといいますか。

〔Ⅲ〕

次の円グラフは、1990年と2010年の世界の二酸化炭素排出量の割合を国別で表したものである。グラフを見てあとの問いに答えなさい。



(「世界国勢図会 2013/14」より作成)

〔設 問〕

問1 グラフのDに当てはまる国名を答えなさい。

問2 グラフを見て分かることで、1990年と比べて2010年はどのように変化しているかの説明として間違っているものを選びなさい。答えは一つとは限りません。

サンプル

- ①アメリカの二酸化炭素排出量は5.5%減少した。
- ②Dの二酸化炭素排出量は3.2倍に増えた。
- ③ロシアの二酸化炭素排出量はちょうど半分になった。
- ④日本の二酸化炭素排出量は約1.1倍と微増した。
- ⑤ドイツの二酸化炭素排出量はおよそ2割減少した。
- ⑥インドの二酸化炭素排出量は280%になっている。

問3 次の文章を読んで、あなたの考えを200字程度で書きなさい。

1997年に京都で開催されたCOP3で、2012年までの具体的な温室効果ガス排出削減目標を示した「京都議定書」が採択され、1990年との比較で日本は6%、EUは8%、米国は7%の削減が義務付けられました。しかし、アメリカは、省エネルギー対策がゼロに等しいEU諸国と同じ水準では、不利であるとしてこれを拒否し、枠組みから離脱します。

議長国であった日本は、この厳しい条件を飲むことになりましたが、もともと日本は世界で最も省エネが進んだ国です。公約の達成は容易なことではありませんでした。折しも、東日本大震災で原発が停止したこともあり、結局、日本も2011年12月に開催されたCOP17において京都議定書から事実上脱退しました。日本は京都議定書から脱退はしましたが、1990年比で2020年までに25%削減するという中期目標は変更していませんでした。COP19では、2005年と比較して3.8%削減するという新しい目標を提示しましたが、この数字は1990年と比較すると3.1%の増加であり、日本は目標を大きく後退させることになり、国際的には厳しい評価にさらされています。

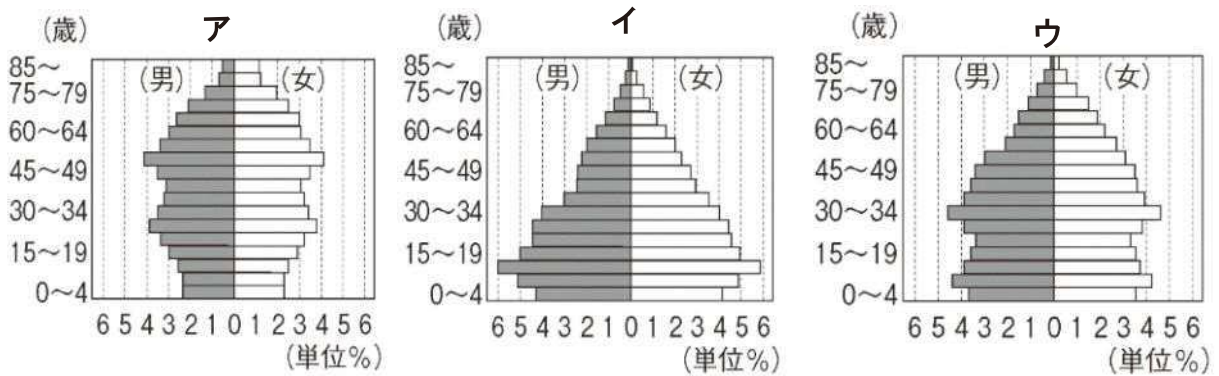
V 社会記述課題②

サンプル

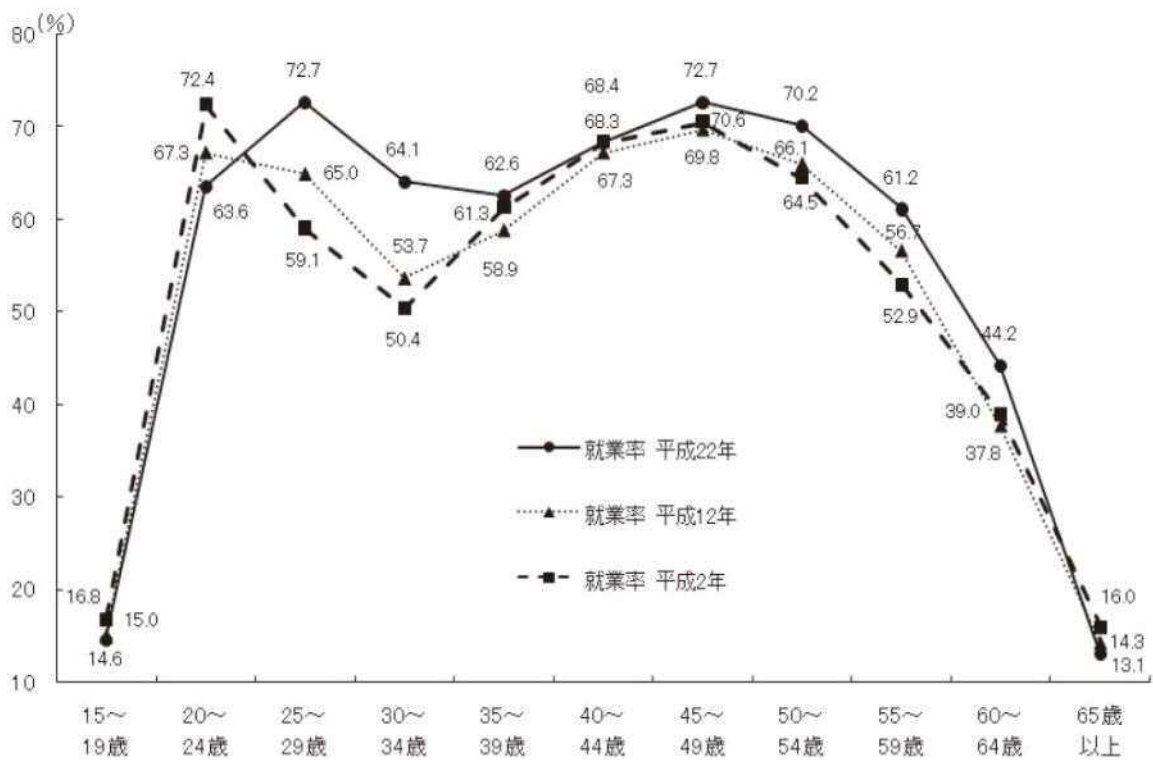
〔問題〕 次の〔I〕～〔III〕の文章や資料を読み、あとの問いに答えなさい。

〔I〕 日本の人口問題について、次の【資料1】～【資料2】をみて問1～問5に答えなさい。

【資料1】



【資料2】



設 問]

サンプル

【資料1】ア～ウのグラフは、日本の1960年、1980年、2000年の人口分布を表しています。

問1 このようなグラフを何といいますか。

問2 ア～ウを年代順に並べ、日本の人口構成にこのような変化が生じた原因について簡潔に説明しなさい。

1960年→(A)、1980年→(B)、2000年→(C)、

【資料2】のグラフは、日本の女性の就業率(働いている割合)を年代別に表したものです。

問3 このグラフはどの年代もM字型の曲線になっています。その理由として考えられることを「結婚」「出産」「育児」という3つの語を用いて書きなさい。

問4 近年、その曲線にはどのような変化があると読み取れますか。変化を一つ挙げて、その変化の理由とともに説明しなさい。

問5 これらの【資料1】【資料2】から読み取れる日本の社会問題を挙げ、その解決策についてあなたの意見を50字以内で述べなさい。

〔Ⅱ〕次の【資料4】を参考にして、問1～問6に答えなさい。

【資料4】

1560年 桶狭間の戦い……A

1573年 織田信長が室町幕府をほろぼす

1575年 長篠の戦い……B

1576年 安土城を築く

1582年 本能寺の変が起こる。太閤検地を行う。……㉞

1588年 刀狩令が出される……㉟


1590年 豊臣秀吉が全国を統一する……㊱

1592年 文禄の役……C

1597年 慶長の役……D

1600年 関ヶ原の戦い……E

【資料5】



サンプル

(徳川美術館蔵)

〔設問〕

- 問1 【資料5】は【資料4】のA～Eのどの戦いのようすを描いたものですか。また、織田信長の軍はこの戦いでどのような戦い方をしましたか。【資料5】から読み取り簡潔に説明しなさい。
- 問2 豊臣秀吉が行った【資料4】の㉔や㉕によって、世の中はどのようにになりましたか。身分制度に着目して説明しなさい。
- 問3 豊臣秀吉はこのころ（1597年）、禁教令を発令します。秀吉はどのようにしてキリスト教を禁じようとしたのでしょうか。100字以内で説明しなさい。
- 問4 【資料4】の㉖の翌年、豊臣秀吉によって切腹を命じられた茶人はだれですか。
- 問5 【資料4】のA～Eの戦いで、朝鮮との戦いをすべて選び記号で答えなさい。
- 問6 問5の戦いは豊臣家没落の原因だと言われています。それはどうしてですか。50字以内で説明しなさい。

Ⅲ] 次の文章や【資料3】を参考にして、問1～問4に答えなさい。

サンプル

今、全国に「買い物難民」といわれる人が増えているという。「買い物難民」とは、自宅から徒歩で10分ほどの距離に生活に必要なものを買うことができる商店がなく、日常生活にも困る人々のことをいう。

経済産業省によれば、こういう買い物難民の高齢者が全国に600万人いるという。経済産業省自身が大型商業施設を郊外に立地することを促進する施策を打ってきたのだから、①難民の発生の責任の多くは経済産業省にあるのだが、今になって買い物難民の問題を指摘しはじめた。

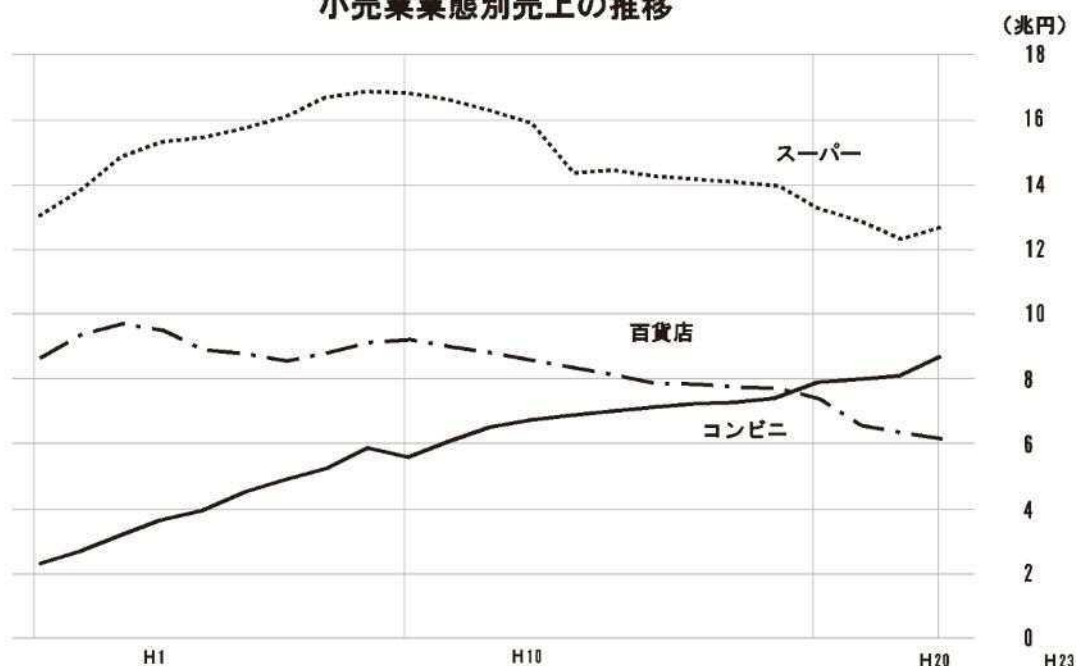
2010年に発表された、同省の「地域生活インフラを支える流通のあり方研究会報告書」では、単身世帯の増加、高齢者の増加、人口の都市集中などの理由から国内小売業の市場規模が縮小し、小売店舗が減少することは「医療や介護などと比べて生命に直結する深刻な課題ととらえにくいだが、地域によっては深刻度が増しており、社会的な課題として対応していくことが必要になってきている」と指摘している。

そしてその課題には「これまでの郊外型のモータリゼーションを前提にした流通モデルでは必ずしも対応できない」ため「今後は、消費者の新たな需要に対応し、低コストで効率的な流通のあり方を追求していくことの重要性が高まる」と言っている。「買い物弱者が多く分布している地域は、あまりビジネスには適さない地域であると考えるのが通常である」が「逆から見れば、こうした地域には満たされることがない潜在的な需要が確実に広がっていることを意味する」ため「こうした潜在的な需要を新たなフロンティアととらえ、そうした需要に光を当てることで、新たな事業につなげていく可能性もある」と、買い物支援ビジネスが広がることを期待している。

(三浦 展『日本人はこれから何をかうのか?』光文社新書より)

【資料3】

小売業業態別売上の推移



出所：チェーンストア販売統計、全国百貨店売上高概況、コンビニエンスストア統計調査月報

〔設 問〕

問1 小売店舗に商品を販売する業種のことを何といいますか。

問2 傍線①に「難民の発生の責任の多くは経済産業省にある」とありますが、それはどうしてですか。簡潔に説明しなさい。

問3 【資料3】から、コンビニエンスストアの売り上げが百貨店をぬき、スーパーにもせまる勢いであることがわかります。その理由について、あなたの考えを述べなさい。

問4 傍線②に「新たな事業につなげていく可能性」とありますが、どのようなビジネスが考えられますか。あなたの意見を200字以内で述べなさい。

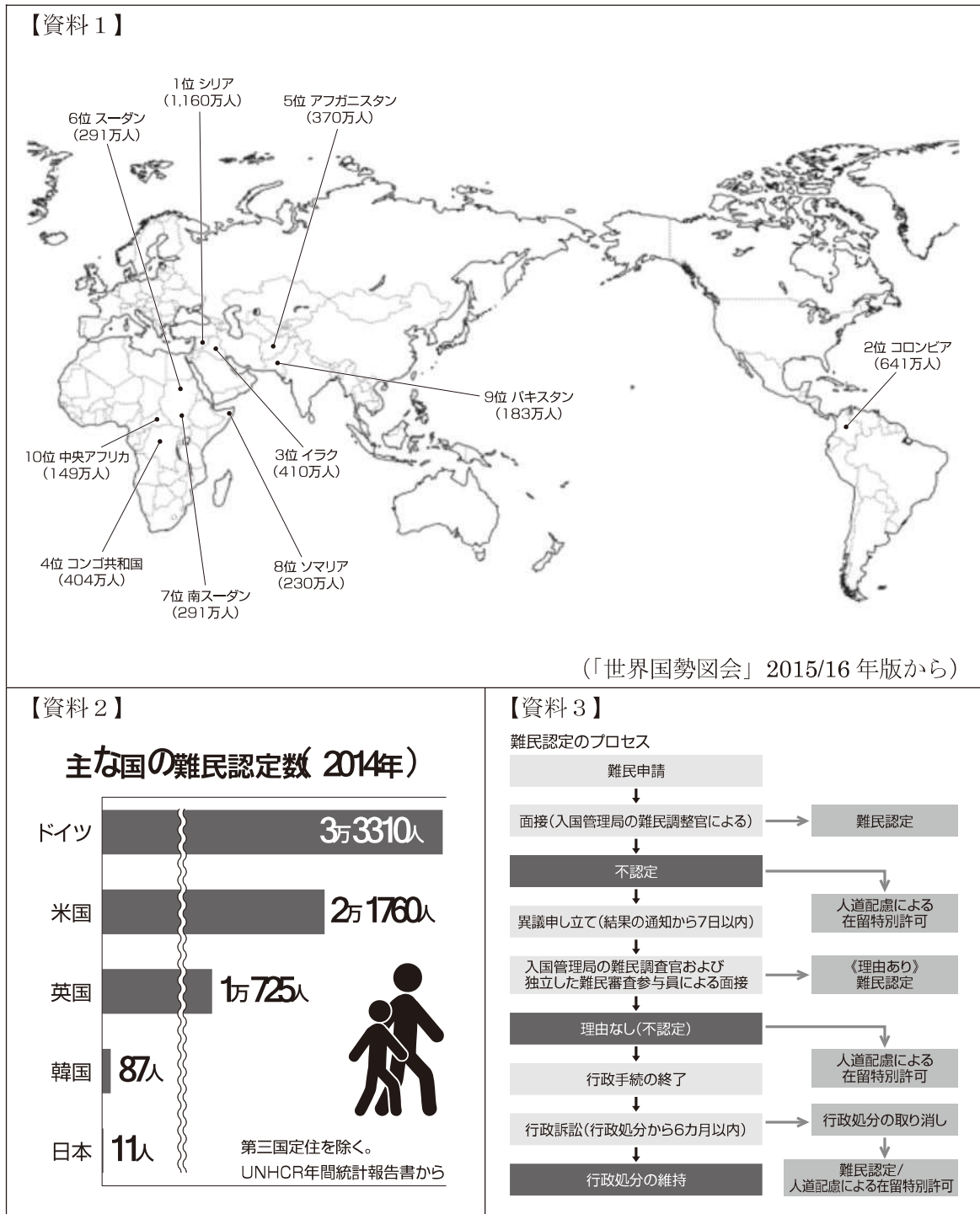
サンプル

V 社会記述課題③

〔問題〕 次の〔Ⅰ〕～〔Ⅲ〕の文章や資料を読み、あとの問いに答えなさい。

〔Ⅰ〕 世界の難民問題について、次の【資料1】～【資料3】を参考にして、問1～5に答えなさい。

サンプル



(UNHCR 資料から)

〔設 問〕

【資料 1】の地図は、2014 年の難民の発生数が多い上位 10 か国とそれぞれの人数を表しています。

サンプル

問 1 2014 年の難民の総数は、5496 万人です。発生数の多い上位 3 か国は、全体の何%を占めますか。四捨五入して、整数で答えなさい。

問 2 難民は、どのような地域で多く発生していますか。発生数の最も多い州を答え、その州で難民が多い理由を、「内戦」「政治」という 2 つの語句を用いて書きなさい。

【資料 2】のグラフは、主な先進国の 2014 年の難民認定数を表しています。

【資料 3】の図は、日本で難民認定を受けることができるまでの手続きの流れを表しています。

問 3 【資料 3】から、日本で難民認定してもらえなかった難民が、日本国内にとどまるには、どうすればよいですか。説明しなさい。

問 4 【資料 2】【資料 3】から読み取れる、難民問題についての日本の課題を挙げ、どのように取り組んでいくべきかについてあなたの意見を 100 字以内で述べなさい。

Ⅱ) 次の【資料4】を参考にして、問1～6に答えなさい。

【資料4】

サンプル

聖徳太子は、現在の（ ）に法隆寺を建て仏教を信仰する一方で、中国の皇帝に“日出ずる国の天子”で始まる手紙を送り、対等な国交をせまった…(あ)

中国全土を支配したモンゴル人の王朝の皇帝が鎌倉幕府に服属をせまったが、幕府にこれを拒否されたため、皇帝の命令で大軍が現在の（ ）を攻撃した。…(い)

中国に渡った阿倍仲麻呂は、故郷である日本の情景を思い、“天の原 ふりさけみれば 春日なる 三笠の山に いでし月かも”という歌をよんだ。…(う)

平清盛が中国との貿易をさかんに行ったため、日本には大量の銅銭が伝わり、市場で流通した。…(え)

中国残留日本人孤児の日本への訪問や帰国の事業が、日本と中国の国交正常化によって加速した。…(お)

日本は中国に対して、ドイツが中国国内に持っている権益を譲ることなどを求めた21か条の要求を突き付け、大部分を認めさせた。…(か)

〔設問〕

- 問1 【資料4】の(あ)、(い)の（ ）にあてはまる都道府県を答えなさい。
- 問2 阿倍仲麻呂は、どのような目的で中国に渡りましたか。仲麻呂たち当時の中国への使いを指す語句を使って、説明しなさい。
- 問3 平清盛は、中国との貿易に取り組む上で、具体的にどのようなことを行いましたか。「神戸」「巖島神社」という2つの語を用いて50字以内で説明しなさい。
- 問4 多くの中国残留日本人孤児が発生したのは、どうしてでしょう。100字以内で説明しなさい。
- 問5 【資料4】の(え)、(か)の「中国」は、それぞれ何という王朝または国ですか。
- 問6 【資料4】の(あ)～(か)が年代順になるように、次の(A)～(C)にあてはまる記号を答えなさい。
(あ)→(A)→(え)→(B)→(か)→(C)

Ⅲ] 次の文章や【資料5】を参考にして、問1～4に答えなさい。

【資料6】は、日本の自動車の国内生産台数・輸出台数・海外生産台数をそれぞれ表したものです。日本の自動車は、たいへん品質が良く、海外でも高い人気を誇っていました。その結果、日本の輸出が相手国からの輸入を大きく上回るようになり、貿易摩擦が起きました。日本製の自動車が輸出先の国で多く売れすぎたためその国の自動車が売れなくなり、工場などで働く人たちの仕事がなくなるなどしたのです。そのため、輸出相手国から日本に対する反発も強くなりました。

そこで、多くの日本の自動車会社が、①貿易摩擦解消のため、海外に工場などを移転させ、現地で人を雇い、生産するようになったのです。こうして貿易摩擦は緩和され、やがて、A海外生産の台数が輸出台数を逆転しました。その後、Bリーマン・ショックの影響で落ち込んだ年もありましたが、海外生産の台数は伸び続け、現在では国内生産台数をも大きく上回っています。

しかし、②産業の空洞化のように、海外生産の伸長によって起こってきている問題もあります。「グローバル化」と呼ばれる現代の国際経済において、日本は、新たな決断を迫られているのかもしれない。

【資料5】

(日本自動車工業会資料から)

〔設 問〕

問1 傍線A, Bは、【資料5】の何年のことか、それぞれ答えなさい。

問2 傍線①に「貿易摩擦解消のため、海外に工場などを移転させ、現地で人を雇い、生産するようになった」とありますが、こうしたことが「貿易摩擦解消」につながるのはなぜですか。簡潔に説明しなさい。

問3 【資料5】の で示した時期について説明した次の文章中の(あ)～(え)にあてはまる内容を書きなさい。

このころは輸出の生産台数が(あ)が、これは、円高が進んだからである。円高とは、(い)ことで、日本の自動車を外国で売るときの価格が(う)なるため、外国で日本車が(え)のである。

問4 傍線②に「産業の空洞化のように、海外生産の伸長によって起こってきている問題もあります」とありますが、「産業の空洞化」とはどのような問題で、それを防ぐために、どのように貿易を行っていくべきだと思いますか。あなたの意見を200字以内で述べなさい。

サンプル